

ACTIVIDADES DE REPASO: DE LA PREHISTORIA A LA EDAD MODERNA. EL SIGLO XVIII

1.VOCABULARIO

a) Hominización, b) Megalitismo, c) Democracia, d) Imperio Bizantino, e) Feudalismo, f) Humanismo, g) Reforma Protestante, h) Despotismo Ilustrado, i) Decretos de Nueva Planta, j) Neoclasicismo

2.EXPLICA LA DIFERENCIA ENTRE LAS SIGUIENTES PAREJAS DE CONCEPTOS

a) Economía depredadora y Economía productora, b) Sociedad Nómada y Sociedad Sedentaria, c) Monarquía feudal y Monarquía moderna, c) Monarquía autoritaria y Monarquía absoluta, d) Antiguo Régimen e Ilustración

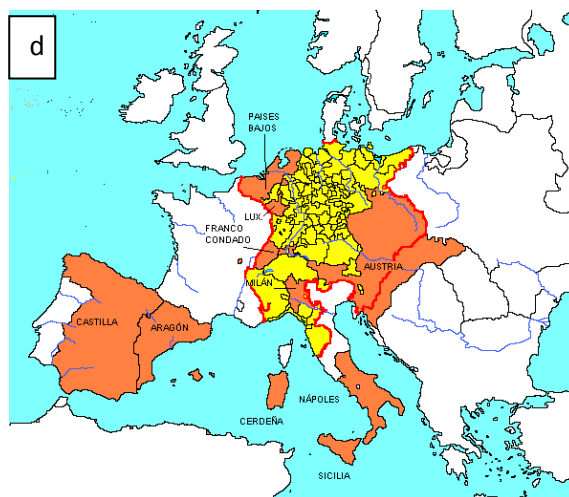
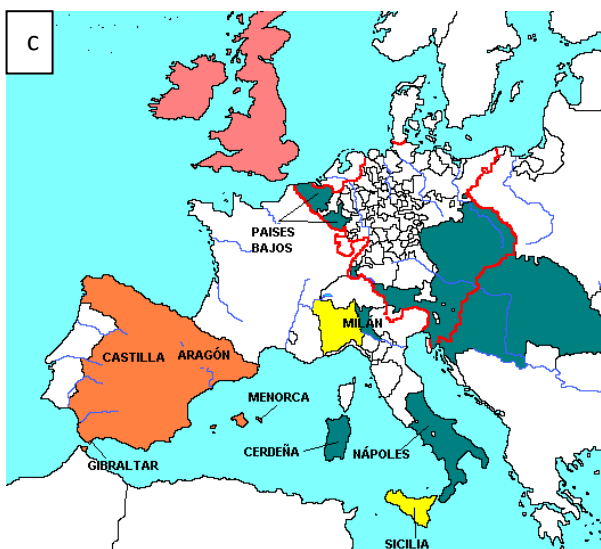
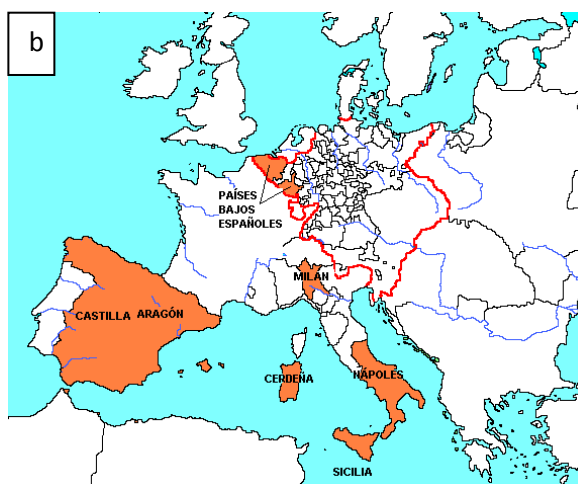
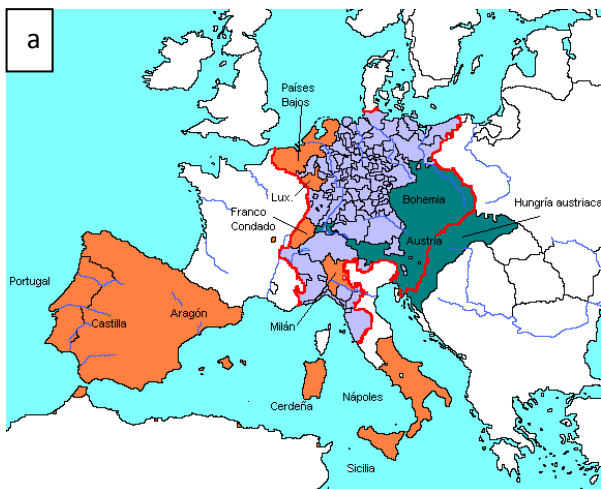
3.PREGUNTAS CLAVE

- Explica cómo surgió la escritura
- Señala al menos dos diferencias entre nuestra democracia y la ateniense
- ¿Por qué decimos que el siglo XVI fue una oportunidad perdida para España? ¿Qué ocurrió en el siglo XVII?
- ¿Cómo consiguieron los Borbones crear un Estado centralizado y uniforme?
- ¿Por qué Carlos III responde al prototipo del déspota ilustrado? Pon ejemplos para aclarar tu explicación

4.INDICA SIN SON VERDADERAS O FALSAS LAS SIGUIENTES AFIRMACIONES Y CORRIGE LAS QUE SEAN ERRÓNEAS

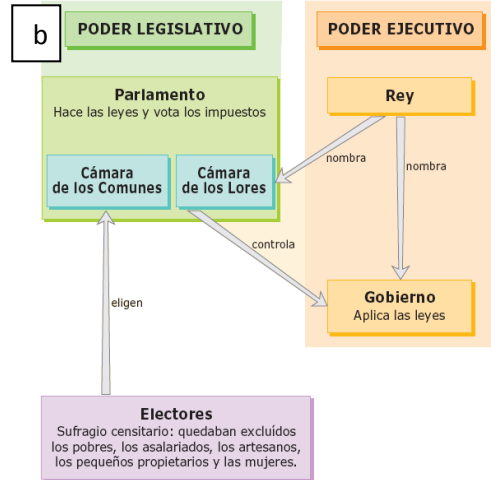
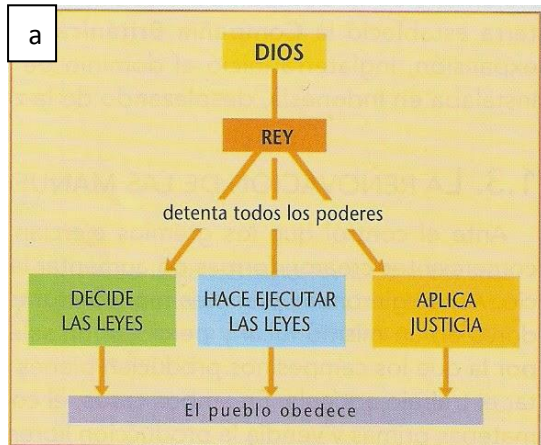
- El origen de la humanidad se encuentra en la zona del Creciente Fértil
- Los Decretos de Nueva Planta establecieron la autonomía de la Corona de Aragón
- La liberalización del comercio con América permitió el crecimiento económico de regiones como Cataluña
- Los restos humanos más antiguos del mundo pertenecen a la especie Homo Antecesor y se han hallado en Atapuerca(Burgos)
- El Imperio Romano de Occidente sobrevivió a las invasiones de los bárbaros
- Felipe V fue rey de España y Francia
- El detonante del motín de Esquilache fue la prohibición de la vestimenta tradicional de los madrileños
- El Islam prohibió la práctica de otras religiones por los territorios por donde se expandió
- Bajo el reinado de los Reyes Católicos se produjo la expulsión de los moriscos
- España perdió todas sus posesiones en Europa tras la Guerra de los Treinta Años

5.IDENTIFICA A QUE ÉPOCA PERTENECEN LOS SIGUIENTES MAPAS Y EXPLICA PORQUÉ LO HAS AVERIGUADO: ÉPOCA DE CARLOS V, ÉPOCA DE FELIPE II, TRAS LA GUERRA DE LOS TREINTA AÑOS, TRAS EL TRATADO DE UTRECHT




6. EL SISTEMA POLÍTICO INGLÉS Y FRANCÉS EN EL SIGLO XVIII

- a) Relaciona cada imagen con el sistema político correspondiente
- b) Explica las diferencias
- c) ¿Crees que el sistema político inglés era democrático? Justifica tu respuesta



7. IDENTIFICA LAS SIGUIENTES OBRAS Y SEÑALA ALGUNA DE SUS PRINCIPALES CARACTERÍSTICAS



8. ORDENA CRONOLÓGICAMENTE LAS SIGUIENTES FECHAS Y RELACIONALAS CON EL ACONTECIMIENTO HISTÓRICO CORRESPONDIENTE

- 1789
- 1707
- 3500 a.C.
- 1767
- 476
- 1778
- 1713
- 5000 millones de años
- 1492
- 1700

